

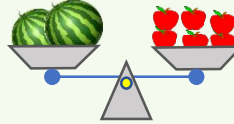
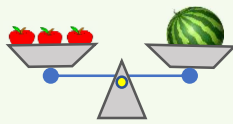


Сурагчийн нэр:

Эхэлсэн: он сар өдөр

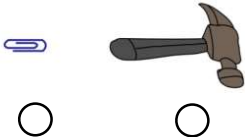


Нэг тарвас 3 алимтай тэнцүү жинтэй бол хоёр тарвас хэдэн алимтай тэнцүү жинтэй вэ?



1) Аль нь хүнд вэ? Дугуй дүрсийг будаарай.

а.



б.




в.

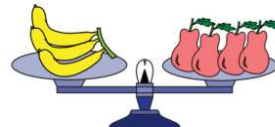


2) Аль нь хөнгөн бэ? Нүдийг будаарай.

а.




б.



в.

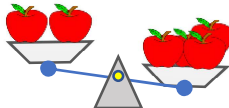


г.



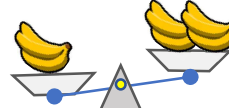
3) Зургийг ажиглаад тохирох үгийг нөхөж бичээрэй. (хүнд, хөнгөн, тэнцүү)

а.



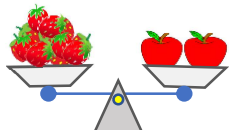
2 кг алим 1кг алимаас _____

б.



1кг гадил 2кг гадилаас _____

в.



1 кг гүзээлзгэнэ 1кг алимтай _____

г.



1 кг гадил 1 кг гүзээлзгэнэтэй _____

4) Зургийг ажиглаад, зурган өгүүлбэр үнэн байхаар А, Б-ийн аль нэгийг сонгоорой.



Дууссан:сарөдөр

	Даалгавар	1	2	3	4
	Өөрийн үнэлгээ				




Сурагчийн нэр:

Эхэлсэн: он сар өдөр



Нэг тарвасны жин 3 алимны жинтэй тэнцүү бол хоёр тарвасны жин хэдэн алимны жинтэй тэнцүү вэ?



1 Хамтдаа бодоцгооё. 1 ширхэг 2 ширхэг тэнцүү бол:

- а. алим хэчнээн жүржтэй тэнцэх вэ?
- б. алим жүрж хэчнээн жүржний жинтэй тэнцэх вэ?
- в. алим жүрж хэчнээн жүржний жинтэй тэнцэх вэ?

2 Бодлого бодод шалгаарай. Хүү 25 кг, охин 22 кг жинтэй байв.

- а. Охин хүү хоёрын жинг жишээрэй.
- б. Охин хоёр хамтдаа жин дээр зогсвол хэдэн килограмм болох вэ?
- в. Охин хүүгээс хэдэн килограммаар хөнгөн бэ?



								<i>Шалгаж</i>				

3 Доржийн аав 75 килограмм жинтэй, ээж нь 58 килограмм жинтэй, Дорж ээжээсээ 40 килограммаар хүнд жинтэй.

- а. Дорж хэдэн килограмм жинтэй вэ?
- б. Доржийн ээж ааваас хэдэн килограммаар хөнгөн бэ?
- в. Аав, ээж, хүүгийн жин нийт хэдэн килограмм бэ?

Дууссан:сарөдөр



Даалгавар	1	2	3
Өөрийн үнэлгээ			



Сурагчийн нэр:

Эхэлсэн: он сар өдөр



Хүү 5 кг лууван, охин 3 кг лууван авав. Тэд нийт хэдэн килограмм лууван худалдан авсан бэ?

$$\begin{array}{l} \text{Хүү - } \text{—————} \\ \text{Охин - } \text{—————} \end{array} \left. \vphantom{\begin{array}{l} \text{Хүү - } \\ \text{Охин - } \end{array}} \right\} ? \quad 5 \text{ кг} + 3 \text{ кг} = 8 \text{ кг (лууван)}$$

- 1) Охинд 7 кг төмс байв. 2 кг төмсийг хүнсэндээ хэрэглэв. Охинд хэдэн килограмм төмс үлдсэн бэ?

- 2) Охин дэлгүүрээс 20 кг ногоо авав. Худалдагч түүнд 5 кг болгон багцалсан хэсэг ууттай ногоо өгөв. Охинд хэдэн уут ногоо өгсөн бэ?

- 3) Ах тариалангийн талбайгаас 12 кг ногоо хураав. Түүнийхээ хагасын хагасыг дэлгүүрт зарав. Ах хэдэн килограмм ногоо зарсан бэ?

- 4) 24 кг ногоог хэд хэдэн килограммаар багцлан савлаж болох вэ?

- 5) Сургуулийн сурагчид 24 кг байцай, 75 кг лууван, 25 кг манжин хураав. Сурагчид нийт хэдэн килограмм ногоо хураасан бэ?

- 6) Ах 78 кг ногоо хураав. 25 кг нь төмс, 15 кг нь лууван, үлдсэн нь сонгино бол хэдэн килограмм сонгино хураасан бэ?

Дууссан:сарөдөр



Даалгавар	1	2	3	4	5	6	7	8
Өөрийн үнэлгээ	😊	😊	😊	😊	😊	😊	😊	😊